

NAME: _____ Div.: _____ ROLL NO.: _____

I. Name the following: (12)

1. Jesus's birth place - _____
2. Another word for 'God with us' - _____
3. The first leader of the church - _____
4. The gifts offered by the Magi - _____, _____, _____
5. A person who helped carry Jesus's cross - _____
6. Lent is a time of _____, _____, _____
7. The first luminous mystery _____
8. The mystery not recited during lent _____


II. Answer the following:

1. What is the most important part of confession? (1)

2. What does Jesus do for us in the sacrament of confession/ reconciliation? (2)

3. To whom has Jesus given the power to forgive our sins? (1)

III. Draw a Rosary and label the different beads. (4)



I. Do as Directed:-

(10)

- a. 7,000 m = _____ km.
- b. An angle of 90° is a _____ angle.
- c. An angle whose measure is greater than 180° but less than 360° is called an _____ angle.
- d. 7hg = _____ dg.
- e. 725 cl = _____ hl.
- f. In $\triangle PQR$, $l(PQ) = 8\text{cm}$, $l(QR) = 8\text{cm}$ $l(PR) = 8\text{cm}$ therefore triangle PQR is an _____ angle.
- g. 12 dal into l = _____.
- h. _____ is the unit in which an angle is measured.
- i. We use the symbol _____ to represents triangle.
- j. An _____ triangle has all the three sides equal.

II. Convert the following

(16)

- a. 30 l 3 cl into centilitres b. 5 dam 35 m into metres.
- c. 64380 g into kg. d. 4312 ml into l and ml.

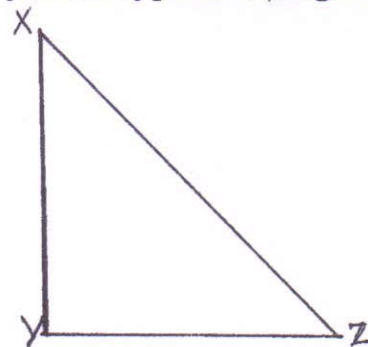
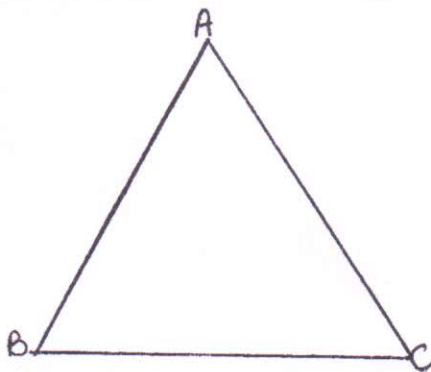
III. Work out the following

(20)

- a. 28 l 25ml + 40 l 352ml. b. 25 g 45mg from 67 g 50 mg.
- c. 42 km 4hm \times 5 d. 32 l 200ml \times 8.
- e. 50 kg 650g \div 5

IV. With the help of the protractor draw angles with the following measures : (5)


- a). 85° b) 120°

QV. Measure and Name the sides of the give \triangle and say what type of triangle are the following: (6)**VI. State what type of angle they are:-**

①



②



VILLA THERESA HIGH SCHOOL, MUMBAI

Std.: VI

Final Examinations – April 2017

Time: 2 hrs.

Date: 03/04/2017

Subject: Hindi

Marks : 75

प्र. १ ला नीचे लिखे प्रश्नों के उत्तर दे।

१८

१. देवी के कहनेपर भी मौलवी साहब गाँव छोड़कर जाने को तैयार क्यों नहीं हुए?
२. 'ऐरोसोल' किस प्रकार हानिकारक है?
३. बाद नियंत्रक दफ्तर में कौन-कौन सी बोट थीं और वे लोगों को बचाने के लिए क्यों नहीं भेजी गईं?
४. गिरधारी तथा उसके साथियों ने मौलवी साहब पर हमला क्यों नहीं किया?
५. टेढ़ी लोमड़ी को कौन-सी बात बुरी लगती थी? और क्यों?
६. पुलिस के बाद लोगों को बचाने कौन आया? और उन्होंने क्या किया?

प्र. २. अ. नीचे लिखे शब्दों के अर्थ लिखकर वाक्य बनाइए।

०६

चौकन्ना, साइज़, असीस, ताड़ गई, बला, राजी

व. नीचे लिखे वाक्ये किसने किससे कहे।

०४

१. "मुझे तो यह दिन याद है, जब तुम मेरी गोद में खेले थे।"
२. "ये ओजोन पर्व क्या है?"
३. "अपनी मरजी से किया था या किसी से करवाया था।"
४. "पेड़ पर ही तो टंगे है, कोई चाँद पर तो नहीं टँगे।"

प्र. ३ अ. नीचे लिखे प्रश्नों के उत्तर दो।

०९

१. लेखिका ने गिल्लू के उपचार के लिए क्या-क्या प्रयत्न किए?
२. दादी को देखकर स्वामी क्यों चिंतित हो गया?
३. क्रिकेट और अपनी टीम के बारे में स्वामी ने दादी को क्या जानकारी दी?



P.T.O.

- ब . नीचे लिखे शब्दों के अर्थ लिखिए। 02
 अंतरात्मा, आहत, अपवाद, जहान
- प्रश्न ४ अ . मुहावरोंके अर्थ लिखकर वाक्य बनाइए। 04
 १) छाती पर साँप लोटना २) टके सिर बिकना ३) आग में घी डालना
 ४) गर्दन उठाना
- ब . नीचे लिखे वाक्योंमेंसे सर्वनाम पहचानकर उनका भेद बताइए । 04
 १) मेरे हाथ में किताब है।
 २) जैसा करोगे वैसा भरोगे।
 ३) दरवाजे पर कोई खड़ा है।
 ४) वे कल ही वापस लौटे।
- क . निर्देशानुसार काल परिवर्तन कीजिए। 04
 १ . हम सेब खाएँगे। (वर्तमान में लिखो)
 २ . मीरा भजन सुन रही है। (भूतकाल में लिखिए)
 ३ . आज होली की छुट्टी है। (भविष्यकाल में लिखिए)
 ४ . पिताजी अखबार पढ़ रहे थे। (वर्तमान काल में लिखिए)
- ड . नीचे लिखे नंबर हिन्दीमें अंक और अक्षरोमें लिखिए। 04
 56, 88, 97, 64
- प्रश्न ५ नीचे लिखे विषयोंमेंसे किसी एक विषय पर निबंध लिखिए । 10
 १ . मेरी अभिलाषा
 २ . हमारी कक्षा की पिकनिक
 ३ . गणतंत्र दिवस
- प्रश्न ६ अपनी सहेली को “दौड प्रतियोगिता” में प्रथम स्थान आनेपर बधाई देते हुए पत्र लिखिए । 10

Worksheet

Q1. Fill in the blanks.

[5]

1. A presentation consists of a number of _____.
2. The idea of PowerPoint came from the mind of _____.
3. In OpenOffice package, the program to run slide show presentations is called _____.
4. Viewing a _____ means to see your slide one by one on full screen.
5. The _____ displays the name of the presentation on which you are currently working.




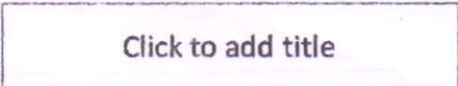
Q2. Complete the following table :-

(3)

Action	Keyboard Shortcut
1. To save a presentation	
2. To create a blank presentation	
3. To open an existing presentation	

Q3. Name the following :-

(4)

1. 	
2. 	
3. 	
4. 	

Q4. Answer the following questions.

1. Which are the different ways to create a new presentation?

(2 1/2)

Ans: _____

